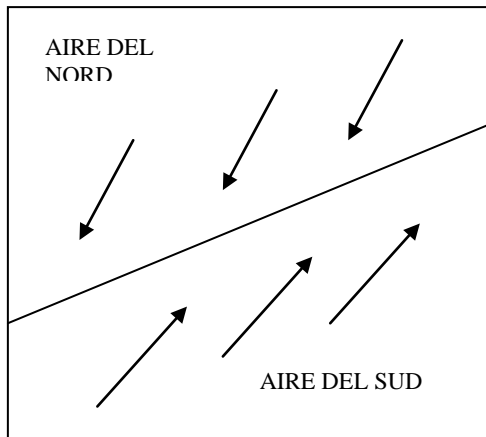
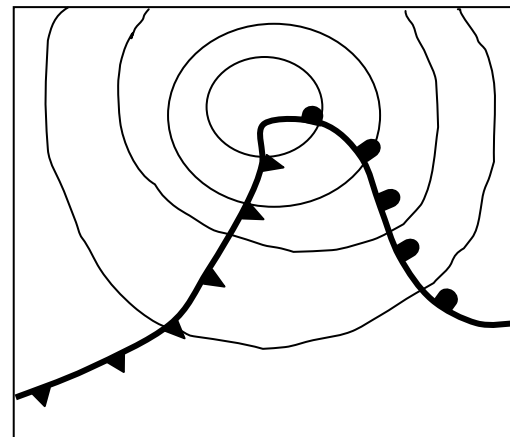


Les depressions frontals són situacions meteorològiques bastant freqüents a la zona temperada.

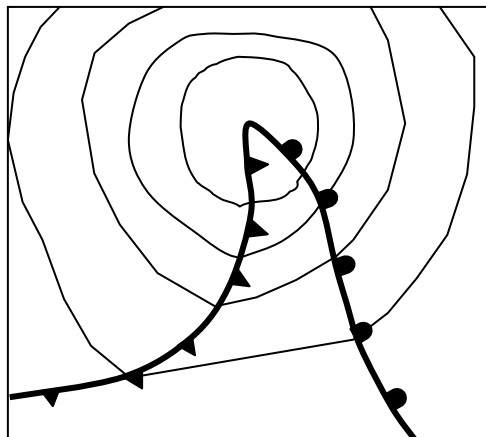
4.1. Utilitzant els quatre dibuixos que hi ha a continuació, expliqueu la formació d'una depressió frontal a l'hemisferi nord. (Com en el dibuix I, indiqueu amb fletxes la direcció i sentit de les masses d'aire i escriviu el nom dels fronts).



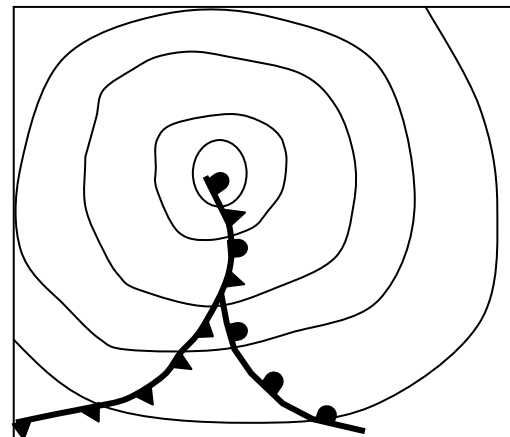
I



II



III



IV

4.2. En la taula que hi ha a continuació es relacionen alguns fenòmens atmosfèrics tipus diferents de fronts. Escriviu el nom del front que considereu que provoca cada fenomen.

FENÒMENS ATMOSFÈRICS	TIPUS DE FRONT
CEL AMB NÚVOLS PRIMS (TIPUS ESTRATIFICAT)	
CEL AMB NÚVOLS MOLT DESENVOLUPATS (TIPUS CUMULIFORME)	
PLUGIMS I PLUGES, DESPRÉS XÀFECS I / O TEMPESTES	
XÀFECS I / O TEMPESTES	
PLUGIMS I PLUGES	